



MINISTERO DEGLI AFFARI ESTERI

Direzione Generale per il Personale

CONCORSO PER LA CARRIERA DIPLOMATICA 2005

QUESTIONARIO PSICO-ATTITUDINALE

1

NON APRIRE PRIMA DELL'INIZIO DELLA PROVA

LE RISPOSTE VANNO DATE SOLO SUL "MODULO DI RISPOSTA"

BUON LAVORO

SUCCESIONI DI NUMERI

Per ciascun quesito indicare sul Modulo di Risposta l'alternativa che completa la sequenza.

		A	B	C	D
1)	2 5 8 11 14 17 20 ?	25	40	23	26
2)	4 6 12 14 28 30 60 ?	62	120	64	56
3)	17 12 15 10 13 8 11 6 ?	7	9	8	11
4)	8 10 13 17 22 28 35 43 ?	52	55	40	50
5)	7 12 10 10 15 13 13 18 ?	20	36	9	16
6)	10 7 14 11 22 19 38 35 ?	7	37	70	32
7)	5 3 9 12 10 30 33 31 93 ?	96	91	80	31
8)	20 10 8 24 14 12 36 26 ?	16	24	48	34
9)	25 22 11 33 30 15 45 42 ?	14	39	44	21
10)	32 8 12 48 12 16 64 16 ?	32	8	20	12
11)	4 VIII 6 XII 10 XX 18 XXXVI ?	34	XXV	38	XXX
12)	6 12 10 11 22 20 21 42 ?	84	81	41	40
13)	17 XIV 7 XXI 18 IX 27 XXIV ?	12	22	XX	XXII
14)	4 8 6 12 10 20 18 36 ?	38	40	34	30
15)	4 8 6 7 14 12 13 26 24 ?	27	25	12	48
16)	XI 14 IX 12 VII 10 V 8 ?	16	5	4	III
17)	19 10 30 22 66 59 177 ?	59	162	171	190
18)	79 80 40 42 21 24 12 16 8 ?	10	24	18	13
19)	? 4 7 10 13 16 ?	0 - 20	1 - 19	19 - 21	3 - 17
20)	? 10 11 14 15 18 19 ?	7 - 22	5 - 22	8 - 20	20 - 21
21)	? 18 19 17 18 16 17 15 16 ?	15 - 17	14 - 16	12 - 22	20 - 14
22)	? 3 9 6 18 15 45 42 126 ?	2 - 129	2 - 63	6 - 123	6 - 9

SUCCESSIONI DI LETTERE

Facendo riferimento all'alfabeto sottostante, indicare sul Modulo di Risposta l'alternativa che completa ciascuna sequenza.

A B C D E F G H I J K L M N O P Q R S T U V W X Y Z

a b c d

23)	F X G X H X I X J X ??	LM	JK	LX	KX
------------	-------------------------------	----	----	----	----

24)	E F X G H X I J X ??	KL	KX	XK	LM
------------	-----------------------------	----	----	----	----

25)	X Y A X Y B X Y C X Y D ??	XE	XY	EY	YE
------------	-----------------------------------	----	----	----	----

26)	C X C Y D X D Y E X E ??	YE	EY	YF	FY
------------	---------------------------------	----	----	----	----

27)	F F G H H I J J K L L ??	MO	MN	NN	NM
------------	---------------------------------	----	----	----	----

28)	Y X W V U T S R Q ??	ON	NO	QP	PO
------------	-----------------------------	----	----	----	----

29)	X V T R P N L J ??	IH	HF	HE	GF
------------	---------------------------	----	----	----	----

30)	A Z B Y C X D W E ??	EV	VG	VF	FT
------------	-----------------------------	----	----	----	----

31)	C D X W G H T S ??	KL	LM	MN	LO
------------	---------------------------	----	----	----	----

32)	B E H K N Q ??	RS	ST	TV	TW
------------	-----------------------	----	----	----	----

33)	B C D D C B E F G G F E H I J ??	IH	JI	IJ	HI
------------	---	----	----	----	----

34)	D E F F E D E F G G F E F G H ??	IJ	GH	HG	HI
------------	---	----	----	----	----

TABELLA

La tabella sottostante contiene i dati relativi agli attivi (**Plus - €**) riportati nei bilanci di quattro enti (**Alfa, Beta, Gamma, Delta**) gestori d'attività scolastiche e culturali all'estero in quattro aree (**Asia, Africa, America, Europa**). Essa riporta, inoltre, il numero degli **utenti** degli enti in ogni area.

Rispondete alle domande deducendo le soluzioni dai dati nella tabella. Per ogni domanda scegliete una delle quattro alternative, individuate da altrettante lettere. Annerite sul **Modulo di Risposta** la casella con la lettera che contrassegna la risposta scelta, in corrispondenza con il numero che identifica il quesito.

Ente	Asia		Africa		America		Europa	
	Plus (€)	Utenti	Plus (€)	Utenti	Plus (€)	Utenti	Plus (€)	Utenti
Alfa	36.000	5.000	34.000	4.100	45.000	8.900	45.000	14.000
Beta	33.000	3.000	38.000	2.000	38.000	6.000	42.000	13.000
Gamma	39.000	6.500	32.000	3.200	36.000	7.100	38.000	13.000
Delta	36.000	6.200	36.000	3.900	38.000	8.500	35.000	10.000

35) In America quale ente ha il massimo degli utenti?

- a) Alfa b) Delta c) Gamma d) Beta

36) In Asia quale ente ha l'attivo più basso?

- a) Delta b) Beta c) Alfa d) Gamma

37) In Africa quale ente ha l'attivo più alto?

- a) Gamma b) Alfa c) Delta d) Beta

38) In quale area si registra il numero complessivo d'utenti più elevato?

- a) America b) Africa c) Asia d) Europa

39) Considerando l'insieme delle quattro aree, quale ente ha il maggior numero d'utenti?

- a) Delta b) Alfa c) Beta d) Gamma

40) Gli utenti di Delta in Europa quale percentuale dell'utenza complessiva in quest'area rappresentano?

- a) 30% b) 50% c) 20% d) 25%

41) L'utenza di Beta in America quale percentuale dell'utenza dell'ente in tutte e quattro le aree rappresenta?

- a) 25% b) 35% c) 20% d) 33%

42) In media, a quanto ammonta l'attivo dell'ente Alfa per area?

- a) 35.000 b) 40.000 c) 38.000 d) 50.000

43) In Europa a quanto ammonta in media l'attivo per ente?

- a) 55.000 b) 36.000 c) 40.000 d) 34.000

44) In Asia l'utenza dell'ente Gamma a quale percentuale dell'utenza dello stesso ente in Europa corrisponde?

- a) 60% b) 50% c) 30% d) 25%

45) Quale ente annovera in America un'utenza corrispondente all' 85% della propria utenza in Europa?

- a) Delta b) Gamma c) Beta d) Alfa

46) Un analista che estragga a caso uno dei quattro bilanci d'area dell'ente Delta, quale probabilità ha di scegliere un bilancio d'area con un attivo di € 36.000?

- a) 0.20 b) 0.25 c) 0.50 d) 0.45

47) In Africa quale ente registra un attivo di bilancio di € 10 per utente?

- a) Beta b) Gamma c) Alfa d) Delta

48) L'utenza dell'ente Beta in Asia a quale percentuale dell'utenza dello stesso ente in America corrisponde?

- a) 30% b) 45% c) 50% d) 80%

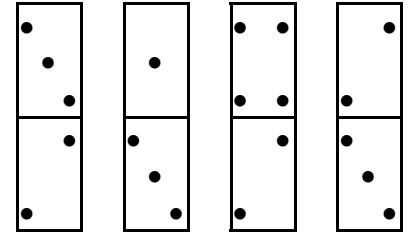
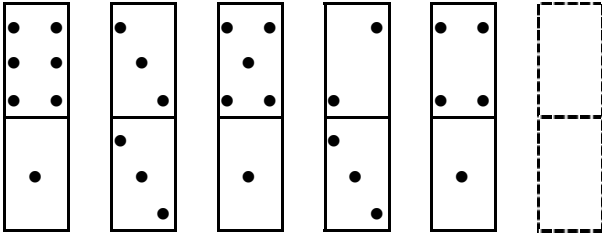
SUCCESSIONI DI FIGURE

- I -

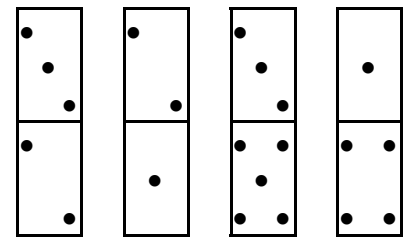
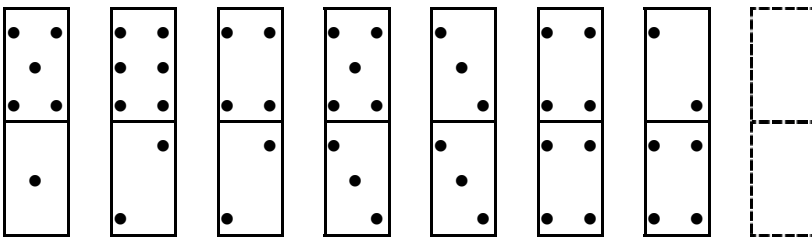
Per ciascun quesito individuare la figura che completa la serie e indicarla sul Modulo di Risposta.

 A B C D

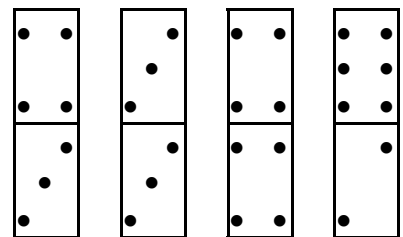
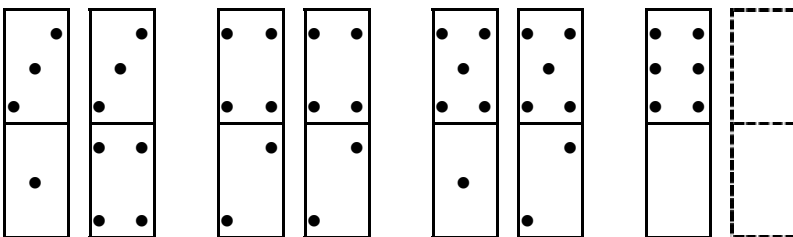
49)



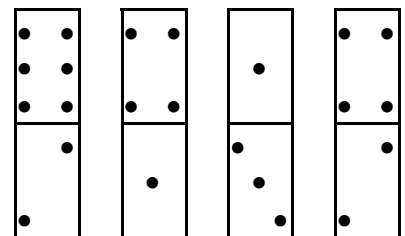
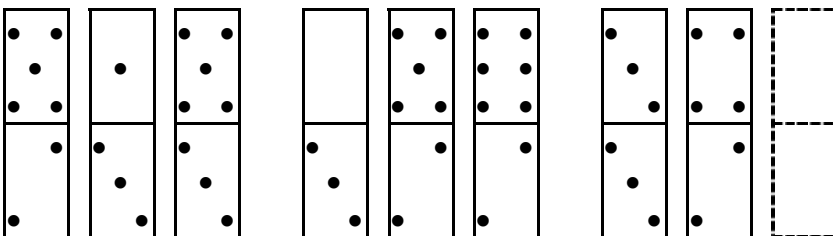
50)



51)



52)





SUCCESSIONI DI FIGURE

- II -

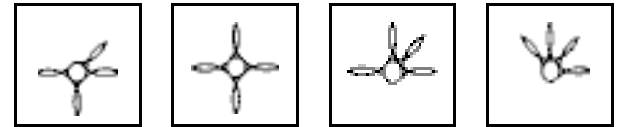
Per ciascun quesito individuare la figura che completa la serie e indicarla sul Modulo di Risposta.

A B C D

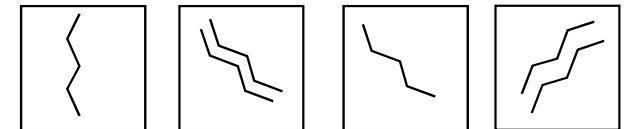
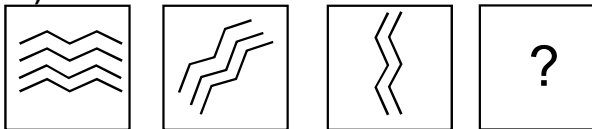
53)




54)



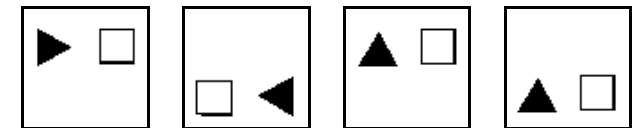
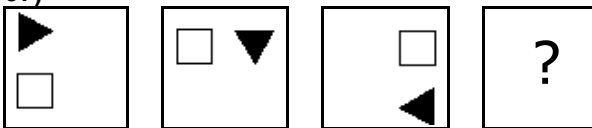
55)



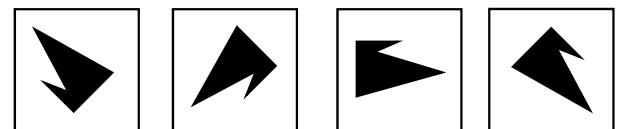
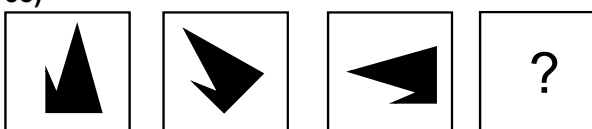
56)



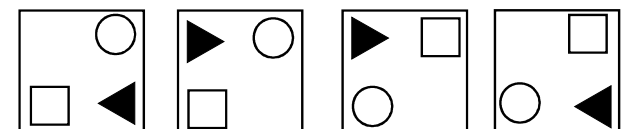
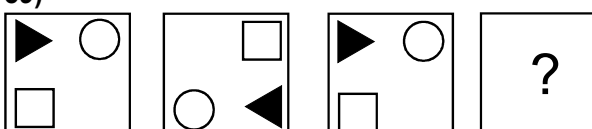
57)



58)



59)



60)

