



MINISTERO DEGLI AFFARI ESTERI

Direzione Generale per il Personale

CONCORSO PER LA CARRIERA DIPLOMATICA 2007

QUESTIONARIO PSICO-ATTITUDINALE

2

NON APRIRE PRIMA DELL'INIZIO DELLA PROVA

LE RISPOSTE VANNO DATE SOLO SUL "MODULO DI RISPOSTA"

BUON LAVORO

SUCCESSIONI DI NUMERI

Per ogni quesito indicare sul Modulo di Risposta l'alternativa che completa la sequenza.

		A	B	C	D
1)	18 20 15 17 12 14 9 ?	16	11	6	8
2)	4 6 12 14 28 30 60 ?	61	62	20	58
3)	11 14 28 23 26 52 47 ?	55	94	42	50
4)	16 13 13 18 15 15 20 ?	17	10	23	40
5)	15 18 9 27 30 15 45 ?	42	49	48	3
6)	16 8 4 24 12 8 48 ?	44	50	52	24
7)	3 7 28 24 6 10 40 ?	36	44	20	80
8)	40 10 30 34 32 8 24 28 ?	42	26	27	63
9)	8 6 12 9 27 23 92 ?	26	50	87	54
10)	6 8 12 18 26 36 48 ?	62	58	60	50
11)	200 100 105 35 40 10 15 ?	8	5	3	20
12)	3 6 12 21 33 48 ?	68	51	38	66
13)	? 8 11 14 17 20 ?	3 - 19	4 - 21	5 - 23	3 - 22
14)	? 6 9 10 13 14 17 ?	5 - 18	2 - 18	3 - 21	5 - 20
15)	? 19 17 18 16 17 15 16 ?	20 - 14	21 - 17	17 - 18	18 - 14
16)	? 5 10 11 22 23 46 ?	3 - 50	4 - 92	2 - 48	4 - 47
17)	? 14 16 11 13 8 10 5 ?	9 - 12	19 - 7	6 - 7	11 - 8
18)	? 4 6 12 14 28 30 60 ?	3 - 61	2 - 62	8 - 20	6 - 58

SEQUENZE DI LETTERE

Facendo riferimento all'Aidbeto sottostante, indicare sul Modulo di Risposta l'alternativa che completa ciascuna sequenza.

A B C D E F G H I J K L M N O P Q R S T U V W X Y Z

	(a)	(b)	(c)	(d)
19) BYCYDYEFY ??	YH	GF	GY	GH
20) CDYEFYGHYIJ ??	HK	YK	KY	LK
21) AXYBXYCXYDX ??	YE	FY	FE	XE
22) EFFGHHIJJK ??	IL	KL	LM	LL
23) RQPONMLK ??	HI	JI	IH	HG
24) USQOMKIG ??	IH	FH	EC	JH
25) ZYCDXWEFVU ??	GH	TG	TS	GS
26) EFVUIJ RQ ??	HS	NO	GT	MN
27) BEHKNQ ??	SV	UX	TW	UV
28) ABCCBADEFFEDGHI ??	IH	KJ	IJ	JI
29) FEFHGHJIJLK ??	LM	LN	MN	MM
30) BCDDCBCDEEDCDEF??	FG	GH	DE	FE

TABELLA

La tabella seguente riporta le **Uscite** (in €) derivanti dagli oneri sostenuti negli ultimi quattro anni (**2003, 2004, 2005 e 2006**) da quattro enti (**Aid, Bios, Consult, Diade**) per aiutare i propri **Assistiti**.

Rispondete alle domande in base ai dati della tabella. Per ogni quesito scegliete una delle quattro alternative, individuate da altrettante lettere. Annerite sul **Modulo di Risposta** la casella con la lettera che contrassegna la risposta scelta, in corrispondenza con il numero che identifica il quesito.

Enti	2003		2004		2005		2006	
	Uscite (€)	Assistiti	Uscite (€)	Assistiti	Uscite (€)	Assistiti	Uscite (€)	Assistiti
Aid	36.000	5.000	34.000	4.100	40.000	8.900	60.000	14.000
Bios	33.000	6.500	38.000	3.000	38.000	8.000	66.000	13.000
Consult	45.000	6.500	32.000	4.000	60.000	7.100	80.000	13.000
Demos	36.000	6.000	36.000	3.900	62.000	8.500	62.000	10.000


- 31) Nel 2005 quale ente ha il massimo degli assistiti?
 a) Aid b) Demos c) Consult d) Bios
- 32) Nel 2003 quale ente ha le uscite maggiori?
 a) Demos b) Consult c) Bios d) Aid
- 33) Nel 2004 quale ente ha le uscite più basse?
 a) Consult b) Aid c) Demos d) Bios
- 34) Nel 2006 quale ente ha il minimo degli assistiti?
 a) Consult b) Bios c) Demos d) Aid
- 35) In quale anno si registra – complessivamente – il maggior numero di assistiti?
 a) 2005 b) 2004 c) 2003 d) 2006
- 36) Nell'insieme dei quattro anni, quale ente ha il massimo delle uscite?
 a) Aid b) Consult c) Bios d) Demos
- 37) Nel 2005 a quanto ammontano, in media, le uscite per ente?
 a) 35.000 b) 40.000 c) 50.000 d) 60.000
- 38) Nel 2006 le uscite di Consult di quanto sono aumentate rispetto al 2005?
 a) 1/2 b) 3/4 c) 2/3 d) 1/3
- 39) In media, quante sono le persone assistite annualmente da Aid?
 a) 6.000 b) 8.000 c) 4.000 d) 5.000
- 40) Nel 2003 gli assistiti da Demos che percentuale sono del totale degli assistiti in quest'anno?
 a) 25% b) 35% c) 43% d) 33%

- 41) Nel 2004 quale ente annovera un quinto del totale degli assistiti in questo stesso anno?
 a) Aid b) Demos c) Consult d) Bios
- 42) Nel 2005 quale ente registra un quinto del totale delle uscite in questo stesso anno?
 a) Demos b) Consult c) Aid d) Bios
- 43) Se si estrae a caso uno dei quattro bilanci annuali di Demos, quale probabilità si ha di sceglierne uno con uscite per € 36.000?
 a) 0.50 b) 0.25 c) 0.33 d) 0.20
- 44) Se si estrae a caso uno dei quattro bilanci annuali di Consult, quale probabilità si ha di sceglierne uno con uscite per € 32.000?
 a) 0.20 b) 0.25 c) 0.50 d) 0.45
- 45) Nel 2003 quale ente registra un'uscita media di € 6,00 per assistito?
 a) Bios b) Consult c) Aid d) Demos
- 46) In che anno Demos registra l'uscita media per assistito più alta?
 a) 2005 b) 2003 c) 2004 d) 2006
- 47) Nel 2003 quale ente registra l'uscita media per assistito più bassa?
 a) Consult b) Aid c) Demos d) Bios
- 48) Nel 2004 quale ente registra l'uscita media per assistito più alta?
 a) Aid b) Consult c) Bios d) Demos
- 49) Nel 2002 gli assistiti da Demos sono diminuiti di 1/4 rispetto al 2001. Nel 2003 sono ulteriormente scesi di 1/3 rispetto al 2002, raggiungendo l'entità riportata in tabella. A che percentuale degli assistiti del 2001 corrisponde la cifra riportata in tabella?
 a) 50% b) 25% c) 10% d) 20%
- 50) Se si estrae a caso uno dei quattro bilanci annuali di Demos, quale probabilità si ha di sceglierne uno con uscite per € 62.000?
 a) 0.80 b) 0.33 c) 0.50 d) 0.20
- 51) Nel 2003 gli assistiti da Demos che percentuale sono della media degli assistiti per ente?
 a) 100% b) 50% c) 15% d) 30%
- 52) Rispetto al 2003, di quanto sono aumentate le uscite di Bios nel 2006?
 a) 80% b) 100% c) 50% d) 33%

SUCCESSIONI DI FIGURE

Per ciascun quesito individuare la figura che completa la serie e indicarla sul Modulo di Risposta.

53)







A

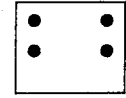

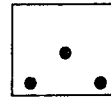


B

C

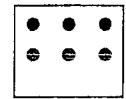
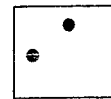
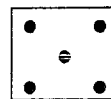
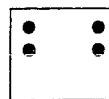

D




54)



55)



56)

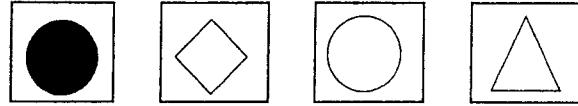


A

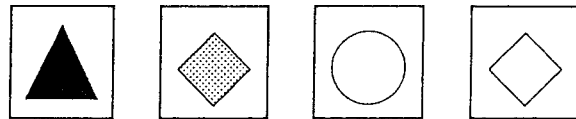

B

C

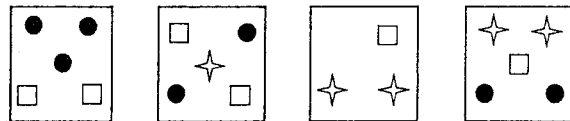

D



57)



58)



59)



60)

