

**MINISTERO DEGLI AFFARI ESTERI**

**Concorso, per titoli ed esami,  
a 35 posti di Segretario di Legazione  
in prova nella carriera diplomatica.**

**Prova attitudinale**

**PROVA 01**

**NON STRAPPARE**


**L'INVOLUCRO DI PLASTICA PRIMA CHE VENGA  
DATO IL SEGNALE DI INIZIO DELLA PROVA**

**Incollare sulla scheda delle risposte  
il codice a barre sottostante:**

**Codice questionario**



E 0 0 0 0 1



---

**1 Con quale dei seguenti Stati era alleata la Romania nella prima guerra mondiale?**

- A** Austria-Ungheria
- B** Francia
- C** Spagna
- D** Bulgaria

---

**2 Cosa prevedeva il rinnovo della Triplice Alleanza, nel 1887, circa i rapporti tra Italia e Germania?**

- A** La Germania si impegnava a intervenire a fianco dell'Italia in caso di una guerra provocata dai francesi in Marocco e in Tripolitania
- B** L'Italia appoggiava le rivendicazioni tedesche sulla Serbia e sul Montenegro
- C** La Germania avrebbe appoggiato le mire espansionistiche dell'Italia nella Tripolitania
- D** L'Italia appoggiava le rivendicazioni tedesche sulle isole turche dell'Adriatico e dell'Egeo

---

**3 Quali potenze firmarono la Pace di Santo Stefano nel 1878?**

- A** Russia e Impero Ottomano
- B** Turchia e Bulgaria
- C** Russia, Austria-Ungheria e Impero Ottomano
- D** Austria-Ungheria, Germania e Impero Ottomano

---

**4 Cosa comportò, per la Turchia, la Pace di Losanna del 1912?**

- A** La perdita di territori a favore della Bulgaria
- B** La rinuncia al controllo sugli Stretti
- C** La perdita della sovranità sulla Libia
- D** La perdita della sovranità sul Dodecaneso

---

**5 Qual era la validità temporale del patto di Bruxelles del 1948?**

- A** 45 anni
- B** 50 anni
- C** 60 anni
- D** 40 anni

---

**6 In quale Paese si trova la fortezza di Fashoda, a causa della quale si verificò alla fine dell'Ottocento un "incidente" diplomatico tra due potenze europee?**

- A** Congo
- B** Egitto
- C** Sudan
- D** Etiopia

---

**7 Quali tipi di sanzioni vennero adottate dalla Società delle Nazioni nei confronti dell'Italia a seguito della guerra contro l'Etiopia?**

- A** Finanziarie ed economiche
- B** Solo diplomatiche
- C** Vennero adottate durissime sanzioni economiche che determinarono l'interruzione di ogni rapporto commerciale dell'Italia con i suoi principali partner
- D** Finanziarie e militari

- 
- 8 L'armistizio di Tangku fu firmato a seguito:**
- A** della prima guerra sino-giapponese (1894-1895)
  - B** del conflitto giapponese-coreano
  - C** dell'annessione della regione del Jehol al Manciukuò
  - D** della seconda guerra sino-giapponese (1937-1945)
- 
- 9 La carta delle Nazioni Unite (ONU) è entrata in vigore il:**
- A** 25 aprile 1945
  - B** 26 giugno 1945
  - C** 24 ottobre 1945
  - D** 1 gennaio 1942
- 
- 10 Quali furono i ducati persi dalla Danimarca nella campagna militare condotta nel 1864 da Austria-Ungheria e Prussia?**
- A** Schleswig, Meclemburgo, Lauenburg
  - B** Holstein, Lauenburg, Oldenburg
  - C** Schleswig, Meclemburgo, Hannover
  - D** Schleswig, Holstein, Lauenburg
- 
- 11 In quale anno venne firmato il Trattato di Washington che prevedeva la cosiddetta "doppia opzione zero"?**
- A** Nel 1991
  - B** Nel 1989
  - C** Nel 1987
  - D** Nel 1978
- 
- 12 Quali Stati firmarono l'armistizio di Villafranca l'11 luglio 1858?**
- A** Francia e Regno di Sardegna
  - B** Francia, Regno di Sardegna e Impero asburgico
  - C** Francia e Impero asburgico
  - D** Regno di Sardegna e Impero asburgico
- 
- 13 La Convenzione europea dei diritti umani è stata conclusa sotto gli auspici:**
- A** del Consiglio d'Europa
  - B** dell'Unione europea
  - C** della Comunità europea
  - D** della Corte di giustizia dell'Unione europea
- 
- 14 Quale delle seguenti NON è una funzione del WTO ai sensi dell'art. III dell'Accordo di Marrakech del 1994?**
- A** Fornire un contesto nel cui ambito si possono svolgere negoziati tra i suoi membri per quanto riguarda le loro relazioni commerciali multilaterali nei settori contemplati dagli accordi
  - B** Dirimere le dispute fra Stati membri delle Nazioni Unite che hanno accettato la sua giurisdizione. Essa esercita una funzione giurisdizionale riguardo all'applicazione e all'interpretazione del diritto internazionale
  - C** Amministrare l'intesa sulle norme e sulle procedure che disciplinano la risoluzione delle controversie
  - D** Favorire l'attuazione, l'amministrazione e il funzionamento del suddetto accordo e degli accordi commerciali multilaterali, ne persegue gli obiettivi e funge da quadro per l'attuazione, l'amministrazione e il funzionamento degli accordi commerciali plurilaterali
-

---

**15** Nell'ambito delle disposizioni del TFUE, in materia di libera circolazione dei capitali, quale delle seguenti affermazioni è corretta?

- A** Sono previste delle restrizioni sui pagamenti tra Stati membri e tra Stati membri e Paesi terzi
- B** Sono vietate tutte le restrizioni ai movimenti di capitali tra Stati membri, ma sono previste restrizione tra Stati membri e Paesi terzi
- C** Sono vietate tutte le restrizioni sui pagamenti tra Stati membri, nonché tra Stati membri e Paesi terzi
- D** Possono essere previste restrizioni ai movimenti di capitali tra Stati membri, e sono sempre previste tra Stati membri e Paesi terzi

---

**16** Quale tra i seguenti obblighi internazionali, se violato, NON può dar luogo a un crimine internazionale dello Stato?

- A** Divieto di inquinamento massiccio dell'atmosfera
- B** Divieto di aggressione di uno Stato terzo
- C** Divieto di schiavitù
- D** Divieto di traffico illecito di merci

---

**17** Qual è, in virtù di quanto disposto dall'art. 27 della versione consolidata dal Trattato sull'Unione europea conseguente al Trattato di Amsterdam, l'organo che rappresenta l'Unione europea in tema di politica estera e di sicurezza comune?

- A** Il Presidente del Consiglio europeo
- B** Il Presidente della Commissione europea
- C** L'alto rappresentante dell'UE per gli affari esteri
- D** Il Commissario europeo competente per la materia

---

**18** Quale dei seguenti fattori costituisce uno dei presupposti per l'adozione di misure "antisubsidy" da parte dell'Unione europea nei confronti di un prodotto proveniente da un Paese extracomunitario?

- A** Il fatto che i costi derivanti da tali misure siano per l'Unione europea proporzionati ai benefici
- B** Il fatto che il prezzo di vendita nell'Unione europea sia inferiore al prezzo di vendita praticato nel Paese dell'esportatore
- C** La generica esistenza del sussidio statale
- D** L'esistenza di dazi all'esportazione applicati dal Paese di origine

---

**19** Quale Stato, tra i seguenti, è entrato a far parte dell'ONU solo nel 2002?

- A** Kosovo
- B** Svizzera
- C** Cina
- D** Islanda

---

**20** Ai sensi dell'art. 49 del Trattato sul funzionamento dell'UE, quale delle seguenti affermazioni sul diritto di stabilimento NON è corretta?

- A** Sono previste delle restrizioni all'apertura di succursali di aziende da parte di un cittadino di un Paese membro sul territorio di un altro Paese dove si è stabilito
- B** A un cittadino di uno Stato membro non può essere vietato di stabilirsi nel territorio di un altro Stato membro
- C** Non sono ammesse restrizioni relative alla libertà di apertura di agenzie da parte di cittadini di uno Stato membro stabiliti sul territorio di un altro Stato membro
- D** La libertà di stabilimento importa l'accesso alle attività economiche autonome e al loro esercizio, alle condizioni definite dalla legislazione del Paese di stabilimento

- 21 **Qual è la corretta definizione di trattato internazionale secondo la Convenzione di Vienna sul diritto dei trattati?**
- A** Un accordo necessariamente pubblico fra Stati concluso in forma scritta
  - B** Un accordo internazionale fra Stati incorporato in un unico strumento
  - C** Un accordo internazionale concluso in forma scritta tra Stati e regolato dal diritto internazionale, sia esso costituito da uno strumento unico o da due o più strumenti connessi e qualunque sia la sua denominazione particolare
  - D** Un accordo internazionale fra Stati concluso in forma scritta che acquista efficacia solo in seguito alla registrazione presso il Segretariato delle Nazioni Unite
- 
- 22 **Quale delle seguenti NON rappresenta una delle fasi in cui è articolato il procedimento contenzioso nel sistema di risoluzione delle controversie relative al sistema del commercio internazionale?**
- A** Fase giudicante davanti ai "panels of experts"
  - B** Fase giudicante davanti all'Organo d'appello
  - C** Fase giudicante davanti all'Organo di risoluzione delle controversie (DSB)
  - D** Fase preliminare di consultazioni dirette fra le parti
- 
- 23 **Qual è la differenza tra le norme di diritto internazionale del lavoro e le norme di diritto comunitario del lavoro?**
- A** Le norme di diritto internazionale possono operare direttamente nell'ordinamento nazionale, mentre quelle comunitarie hanno bisogno di essere ratificate con legge speciale per entrare nell'ordinamento nazionale
  - B** Non vi è alcuna differenza
  - C** Non esistono norme di diritto internazionale del lavoro
  - D** Le norme comunitarie possono operare direttamente nell'ordinamento nazionale, mentre quelle internazionali devono in ogni caso essere ratificate con legge ordinaria per entrare a far parte dell'ordinamento
- 
- 24 **Il Tribunale internazionale per il diritto del mare ha sede:**
- A** a Ginevra
  - B** all'Aja
  - C** a Montego Bay
  - D** ad Amburgo
- 
- 25 **Quale delle seguenti rappresenta una probabile conseguenza di un aumento dei tassi di interesse nell'area euro?**
- A** Un deprezzamento dell'euro nei confronti delle altre valute
  - B** Un aumento del prezzo dei titoli di Stato dei Paesi dell'area euro
  - C** Una diminuzione degli investimenti produttivi delle imprese
  - D** Un aumento della domanda interna di beni di consumo nei vari Paesi
- 
- 26 **La curva di Phillips è stata utilizzata per studiare la relazione tra tasso di disoccupazione e tasso di inflazione. Partendo da tale relazione, in caso di operatori con aspettative razionali, la politica economica volta a ridurre il tasso naturale di disoccupazione risulta:**
- A** efficace nel lungo e nel breve periodo
  - B** pienamente efficace
  - C** inefficace
  - D** efficace nel lungo periodo e inefficace nel breve

27 **Quale delle seguenti scelte politiche ha operato il GATT per rimuovere gli ostacoli tecnici al commercio internazionale?**

- A** La progressiva definizione sovranazionale, da parte di enti pubblici, di requisiti tecnici comuni per tutti i settori a cui tutti i Paesi si devono adeguare
- B** L'adeguamento agli standard internazionali di qualità che vengono elaborati nei diversi settori da organismi privati
- C** Favorire accordi tra i singoli Stati per rimuovere gli ostacoli doganali
- D** Il divieto esplicito imposto agli organi nazionali di regolamentazione settoriale di introdurre requisiti tecnici che discriminano i prodotti esteri rispetto a quelli nazionali

28 **Quale delle seguenti teorie ipotizza che gli individui agiscano razionalmente e che i meccanismi del mercato operino in modo perfetto e ne conclude che un intervento pubblico attivo nell'economia deve essere limitato?**

- A** Economia keynesiana
- B** Nuova macroeconomia classica
- C** Mercantilismo
- D** Economia neoistituzionalista

29 **Si consideri un sistema economico composto da due soli Paesi. Se entrambi i Paesi decidono di perseguire una politica di svalutazione competitiva, quali interventi assumeranno?**

- A** Entrambi i Paesi aumentano il tasso d'interesse nel tentativo di aumentare il flusso di capitali provenienti dall'estero
- B** I due Paesi impongono restrizioni doganali alle importazioni al fine di svalutare la propria moneta
- C** Ogni Paese svaluta la propria moneta al fine di aumentare le proprie esportazioni a danno dell'altro Paese
- D** I due Paesi mettono in atto politiche monetarie restrittive finalizzate a ridurre il saldo delle partite correnti a vantaggio del saldo dei movimenti di capitale

30 **La Banca centrale europea ha la funzione fondamentale di:**

- A** decidere la politica monetaria nei 17 Paesi dell'Unione monetaria europea
- B** finanziare i Paesi in deficit e salvarli dall'eventuale bancarotta
- C** decidere la politica monetaria nei 27 Paesi dell'Unione europea
- D** svolgere la funzione di vigilanza sulle banche dell'Unione europea

31 **La differenza tra tasso di cambio incerto per certo e tasso di cambio certo per incerto, consiste nel fatto che:**

- A** il primo è definito come numero di unità di valuta estera per un'unità di valuta nazionale, mentre il secondo come numero di unità di valuta nazionale per un'unità di valuta estera
- B** il primo è definito come numero di unità di valuta nazionale per un'unità di valuta estera, mentre il secondo come numero di unità di valuta estera per un'unità di valuta nazionale
- C** il primo viene utilizzato nella determinazione del tasso di cambio tra una moneta estera e una moneta che fa parte di un accordo di cambio, mentre il secondo tra una moneta che fa parte di un accordo di cambio e una che ne è fuori
- D** nel sistema certo per incerto un aumento del tasso di cambio significa che occorre una maggiore quantità di valuta nazionale per acquistare una unità di valuta estera (la valuta nazionale vale di meno); viceversa nel sistema incerto per certo, un aumento del tasso di cambio equivale a una rivalutazione della moneta nazionale

32 **In politica economica, la curva a "J" descrive:**

- A** la relazione tra tasso di interesse e investimenti
- B** l'andamento del saldo delle partite correnti di un Paese dopo che questo ha svalutato la propria valuta
- C** la relazione tra variazione del tasso di inflazione e scelta intertemporale del consumatore
- D** la relazione tra crescita della domanda mondiale ed esportazioni di un Paese

---

**33** Si considerino i seguenti valori rilevati in un dato istante: tasso di cambio spot yen contro euro pari a 100 yen per 1 euro; tasso di cambio forward di equilibrio a 1 anno pari a 105 yen per 1 euro; tasso di interesse a 1 anno nella zona euro pari al 4%. Supposta valida la teoria della parità coperta dei tassi di interesse, il tasso di interesse a 1 anno sullo yen rispetto a quello presente nella zona euro è:

- A** maggiore di circa il 4%
  - B** maggiore di circa il 5%
  - C** minore di circa il 5%
  - D** minore di circa il 4%
- 

**34** Un accordo in base al quale due o più Paesi si impegnano solamente a rimuovere dazi e restrizioni sulle reciproche importazioni, a adottare un livello comune dei dazi sulle importazioni da Paesi terzi e ad assicurare il libero movimento dei fattori produttivi, è definito:

- A** mercato comune
  - B** unione economica
  - C** unione doganale
  - D** area di libero scambio
- 

**35** Nella teoria keynesiana le aspettative:

- A** sono assenti, infatti il sistema economico reagisce istantaneamente ai cambiamenti
  - B** occupano un ruolo centrale, in quanto motore dell'attività imprenditoriale
  - C** sono razionali e perfettamente spiegabili
  - D** sono analizzabili attraverso i principi del calcolo delle probabilità
- 

**36** In merito alle operazioni di mercato aperto attuate dalla BCE, quelle che perseguono esclusivamente un obiettivo di immissione temporanea di liquidità sono le operazioni di:

- A** fine tuning
  - B** rifinanziamento marginale
  - C** rifinanziamento principale
  - D** deposito overnight
- 

**37** What is the National Movement for the Liberation of Azawad?

- A** It is a political and military organisation based in northern Mali that has been fighting against the government of Mali since January 2012
  - B** It is a Saharawi organization that fights for independence
  - C** It is a political and military organisation based in Ivory Coast and fighting against recently elected President Alassane Ouattara
  - D** It is an Islamist organisation based in Somalia
- 

**38** Fill in the blanks. "In the first ... of 2013, unemployment rate in Spain hit ...".

- A** quarter; 29%
  - B** fortnight; 26.8%
  - C** quarter; 27.2%
  - D** semester; 20.9%
-



39 Fill in the blank. "The European Union-brokered agreement, signed by Serbian Prime Minister ... and his Kosovo counterpart Hashim Thaci in Brussels on Friday, provides some autonomy for the roughly 40,000 Serbs in northern Kosovo who steadfastly refuse to recognise Kosovo's 2008 declaration of independence from Serbia".

- A Miloš Zeman
- B Mirko Cvetković
- C Ivo Josipović
- D Ivica Dačić

40 Which of the following statements concerning UKIP is correct?

- A The UKIP (UK Independence Party) is a right-wing political party in the United Kingdom that advocates leaving the European Union and the NATO to restore full British sovereignty over the country. Its leader is Nigel Lawson
- B The UKIP (UK Independent Party) is a liberal-democratic political party in the United Kingdom currently in a coalition government with the Conservatives. Its present leader is Nick Clegg
- C The UKIP (UK Independent Party) is a Eurosceptic left-wing populist political party in the United Kingdom, founded by Arthur Scargill in 1982. Its present leader is Nigel Farage
- D The UKIP (UK Independence Party) is a Eurosceptic right-wing populist political party in the United Kingdom, founded in 1993. Its current leader is Nigel Farage

### PASSAGE GF 68

Read the passage and answer the related questions on the basis of what is explicitly or implicitly stated in the text rather than on the basis of the knowledge you may have of the issue.

A hardball game on price may leave Russia empty-handed after 15 years of talks on a deal to supply China with gas, with Beijing able to shop around thanks to a wider choice of suppliers.

As China's new President Xi Jinping meets Russian President Vladimir Putin, prospects are dim for substantial progress on a deal between the world's largest conventional gas producer and its fastest growing energy consumer.

The failure stands in sharp contrast to the Russian-Chinese trade in crude oil, which helped finance Moscow's push to supply Asia from new East Siberian fields, and is likely to be expanded with new supply deal during Xi's visit.

The gas deal has been held up by Russian gas export monopoly Gazprom's determination to match the returns it makes on high-priced European deliveries and cover the \$38 billion cost of bringing its untapped East Siberian gas resources to market. China, for its part, says it cannot afford to pay Gazprom's asking price, which analysts and sources in the gas industry peg at \$300 per thousand cubic meters. Instead, sources say China National Petroleum Corp. has dug in at \$250 as the price it can pay without forcing its energy firms into losses or eroding the cost advantage which makes Chinese producers competitive in the world.

Gazprom has said it is aiming to sign a gas deal by the end of the year, and analysts say that is realistic if Russia moves quickly and shows a newfound willingness to compromise. With competitors from Africa and Australia lined up to meet China's additional demand, Russia needs to send a clear signal to Asian markets if it wants to gain market share in China before 2030, Tatiana Mitrova, head of the oil and gas department of the Russian Academy of Sciences Energy Research Institute said. Mitrova estimates that a supply gap begins to emerge in China in 2020 and rises to 66 billion cubic meters of gas per year by 2030. But that market niche could be filled as China moves quickly to top up existing arrangements with suppliers such as Myanmar and the former Soviet republics of Central Asia, and moves to secure new contracts for increased supplies. Gazprom, which puts up about a tenth of Russian budget revenues and subsidizes the domestic economy with regulated gas prices, is under orders from Putin to look east as a defense against weak demand and rising competition in Europe. But he has shown no inclination to force Gazprom's hand in the talks, which have been a history of often-embarrassing false starts. A Chinese deal would secure demand for reserves of gas in the ground in East Siberia, enabling the Russian export monopoly to push ahead with its plans for field development, pipeline construction and a liquefied natural gas (LNG) plant at Vladivostok.

Mitrova and Keun-Wook Paik, a senior research fellow at Oxford Institute for Energy Studies, argue that China could be a gateway for pipeline deliveries across Bohai Bay to Korea and even on to Japan, for a total of 45 bcm in annual pipeline deliveries. For China, a deal could open up a large new source of future supply which could be delivered overland at less risk than supplies of LNG delivered by tanker from as far away as Australia and Africa.

(Melissa Akin, Reuters)

41 Reply to the following question concerning PASSAGE GF 68

Which of the following statements is correct?

- A Gazprom accounts for over a tenth of Russian budget revenues
- B The Russian economy is subsidized with regulated gas prices
- C European gas has become extremely competitive on the Chinese market
- D Experts calculated that China's need for gas will double by the year 2030



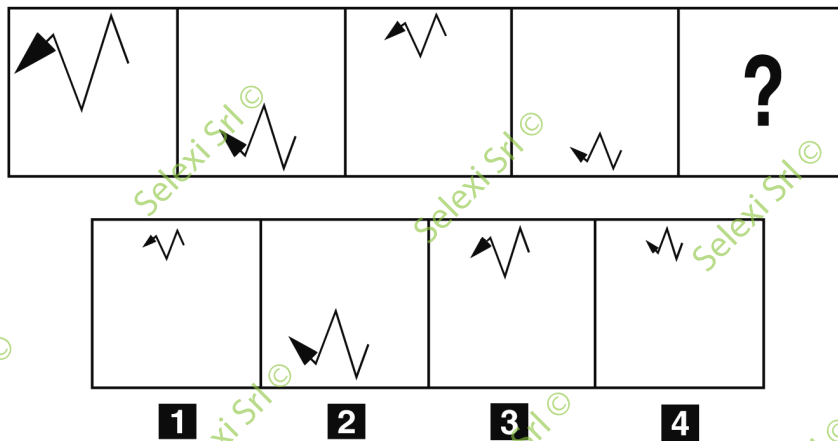
- 
- 42 **Reply to the following question concerning PASSAGE GF 68**  
**What has been Vladimir Putin's role in Gazprom's strategy?**
- A** Vladimir Putin ordered Gazprom to act very cautiously in this matter in order to avoid one more false start
  - B** The Russian President is merely helping the Russian gas company expand its business in the Far East through diplomatic talks
  - C** Putin is directing Gazprom's strategy aimed at opening a new market for Russian gas as a defense against declining demand and increasing competition in Europe
  - D** Putin has been trying to persuade Gazprom to lower its expectations in order to reach a compromise at any cost
- 
- 43 **Reply to the following question concerning PASSAGE GF 68**  
**China National Petroleum Corp. is determined not to pay more than \$250 per thousand cubic meters of gas because:**
- A** this would result in a loss of competitiveness for both Chinese energy firms and producers worldwide
  - B** this would make Chinese producers less competitive on world markets and cause losses to Chinese energy firms
  - C** this would cause losses to other suppliers such as Myanmar and the former Soviet republics of Central Asia
  - D** this is the price they pay for gas from Myanmar and the former Soviet republics of Central Asia
- 
- 44 **Reply to the following question concerning PASSAGE GF 68**  
**Which of the following elements is NOT one of the purposes behind Gazprom's attempted expansion into the Chinese market?**
- A** The market share of Russian gas in Europe is decreasing, so Gazprom needs to open a new market in China
  - B** Gazprom is planning field development and the construction of a liquefied natural gas plant at Vladivostok
  - C** Russian gas could eventually reach Korea and even Japan via a new pipeline passing through China
  - D** Gazprom needs to secure a deal with China in order to keep domestic gas prices low and help Russian economic growth
- 
- 45 **"British cosmologist Stephen Hawking has pulled out of an Israeli conference, joining an academic boycott of Israel to protest against its occupation of Palestinian lands. The wheelchair-bound Hawking, who has won international recognition for his work on black holes, had been due to speak at a prestigious conference in June organised by Israeli President Shimon Peres that draws hundreds of leading world figures".**  
**Which of the following alternatives best summarises the passage above?**
- A** Israeli President Shimon Peres invited cosmologist Stephen Hawking to participate in a conference in June. The British scientist, however, has declined the invitation in order to protest against Israel's occupation of Palestinian lands
  - B** Stephen Hawking, a world-renowned scientist, will not participate in an important conference in Israel that he had been invited to. The scientist wants to protest against Israel's occupation of Palestine
  - C** Stephen Hawking, the famous wheelchair-bound cosmologist, has turned off an invitation for a conference in Israel in July, joining an academic boycott of Israel to protest against its occupation of Palestinian lands
  - D** Hundreds of leading scientists are going to meet Shimon Peres in June for a conference in Israel. Stephen Hawking, however, won't be joining them. The British scientist, who had been invited to speak about black holes, has withdrawn from the conference to protest against Israel's occupation of Palestine
- 
- 46 **According to the 2013 World Press Freedom Index, the top three countries for media freedom are:**
- A** Poland – Canada – USA
  - B** UK – Switzerland – Belgium
  - C** Finland – the Netherlands – Norway
  - D** Brazil – Denmark – New Zealand

- 47 Which of the following countries possesses the largest reserves of oil (source: BP Statistical Review of World Energy 2012)?
- A** Kuwait
  - B** Qatar
  - C** Norway
  - D** Canada

- 48 The European Court of Human Rights has recently ruled that his/her imprisonment was a politically motivated violation of her/his rights. Who is this person?
- A** Viktor Yanukovich
  - B** Yulia Tymoshenko
  - C** Aleksej Navalny
  - D** Garry Kasparov

- 49 Completare correttamente la seguente successione, utilizzando l'alfabeto italiano: N; 105; S; 92; A; 79; ?; ?
- A** F; 70
  - B** S; 84
  - C** F; 66
  - D** S; 76


**FIGURA SS 69**



- 50 Rispondere al seguente quesito facendo riferimento alla FIGURA SS 69  
Quale delle alternative completa correttamente la serie?
- A** Figura 1
  - B** Figura 2
  - C** Figura 3
  - D** Figura 4

- 51 Se CUG significa cifra (singola) divisibile per 2, CEG significa cifra (singola) divisibile per 5 e CIG significa cifra (singola) divisibile per 6, allora con quale scrittura può essere espresso il numero 48?
- A** CIG CUG
  - B** CUG CUG
  - C** CEG CUG
  - D** CIG CEG

FIGURA SZ 56

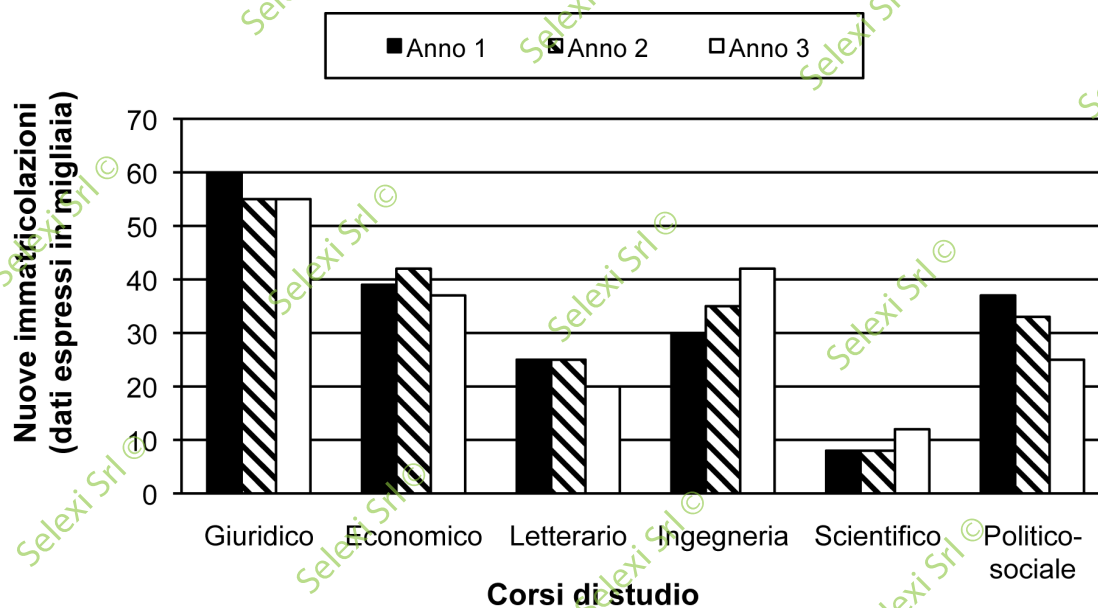


52 Rispondere al seguente quesito facendo riferimento alla FIGURA SZ 56

Individuare la figura da scartare.

- A** Figura 4
- B** Figura 3
- C** Figura 1
- D** Figura 2

GRAFICO SZ 27



53 Rispondere al seguente quesito facendo riferimento al GRAFICO SZ 27

Quante sono state le nuove immatricolazioni al corso di studi in Ingegneria nell'Anno 3?

- A** Circa 42.000
- B** Circa 34.000
- C** Circa 30.000
- D** Circa 46.000

54 Rispondere al seguente quesito facendo riferimento al GRAFICO SZ 27

Che cosa rappresenta il grafico?

- A** La progressiva diminuzione del numero totale di nuove immatricolazioni all'università negli ultimi tre anni
- B** Il numero di laureati per gruppi di corsi di studio in un triennio
- C** L'andamento delle nuove immatricolazioni all'università per gruppi di corsi di studio durante un triennio
- D** Le percentuali di nuove immatricolazioni per gruppi di corsi di studio rispetto al totale di immatricolazioni all'università in un triennio

55 Completare correttamente la seguente successione numerica: 14; 19; 42; 38; 126; 76; 378; ?

- A 154
- B 158
- C 152
- D 656

56 "Giorgio è alto. Chi è alto è magro. Chi è sano è magro". Se le precedenti informazioni sono vere, quale ulteriore affermazione permetterebbe di concludere con certezza che Giorgio è sano?

- A Chi è magro è sano
- B Giorgio è magro
- C Nessuna: sono sufficienti le affermazioni date nel testo
- D Chi è magro è alto

57 Utilizzando l'alfabeto italiano, completare correttamente la seguente successione di lettere: V; Z; U; Z; A; V; ?; ?

- A V; V
- B S; Q
- C B; R
- D A; B

58 Quali tra i termini proposti completano correttamente la seguente proporzione? Ricorrente : periodico = X : Y

- A X = raro; Y = spesso
- B X = saltuario; Y = frequente
- C X = processo; Y = quotidiano
- D X = fioco; Y = flebile

59 "È necessario sapere parlare l'inglese molto bene per poter lavorare nell'azienda Gamma". In base alla precedente affermazione, è certamente vero che:

- A se Alberto parla l'inglese meglio di Angelo, verrà assunto nell'azienda Gamma al suo posto
- B se Alberto lavora nell'azienda Gamma, non è detto che parli molto bene l'inglese
- C se Alberto parla bene l'inglese, potrà scegliere in quale azienda andare a lavorare
- D se Alberto parla male l'inglese, allora non può lavorare nell'azienda Gamma

60 Se l'affermazione "tutti gli avvocati italiani sono alti" è FALSA, quale delle seguenti proposizioni è necessariamente vera?

- A Nessun avvocato italiano è alto
- B Almeno un avvocato italiano è alto
- C Almeno un avvocato italiano non è alto
- D Alcuni avvocati spagnoli sono bassi



**AZIENDA CON SISTEMA  
DI GESTIONE QUALITÀ  
CERTIFICATO DA DNV  
= ISO 9001 =**