



*Ministero degli Affari Esteri  
e della Cooperazione Internazionale*

**CONCORSO, PER TITOLI ED ESAMI, A  
CINQUANTA POSTI DI SEGRETARIO DI  
LEGAZIONE IN PROVA**

**QUESTIONARIO - 3  
VERSIONE DI STAMPA "A"**

**001. A quale componente etnica di Trieste, durante il regime fascista, è stata impedita ogni attività politica, culturale ed economica, suscitando un acceso sentimento anti-italiano?**

- A) Provenzale.                      B) Occitana.                      C) Slava.                      D) Ladina.

**002. Qual è l'ideologia che ha principalmente caratterizzato la rivoluzione di Budapest?**

- A) La ricerca di una terza via tra comunismo e capitalismo.  
B) Un sistema multipartitico privato di componenti socialiste.  
C) Valorizzare le conquiste del socialismo in un sistema monopartitico.  
D) Un'ideologia meramente capitalistica basata sulle tesi della "mano invisibile" di Adam Smith.

**003. A rafforzamento della Duplice Alleanza franco-russa del 1892 c'è stata la convenzione militare approvata il 27 dicembre 1893 dallo zar e dal presidente della Repubblica francese Carnot. Cosa stabiliva, tra l'altro?**

- A) Di rendere flessibile la convenzione, che in origine constava di 24 articoli e nel 1895 arrivò a 48 articoli.  
B) L'obbligo di aiutarsi scambievolmente nel caso fossero attaccate da potenze della Triplice.  
C) Di tenere segreta la convenzione per un anno, fino al 27 dicembre 1894.  
D) La possibilità di fare pace separata soltanto nel caso di attacco dall'Austria.

**004. Quale, tra i seguenti motivi, non è associabile alla cosiddetta "Guerra dei sei giorni" del 1967, nel corso della quale Israele ha occupato il Sinai, la Cisgiordania e il Golan?**

- A) La creazione delle premesse del rasserenamento del clima alla vigilia della Pace di Camp David tra Egitto ed Israele.  
B) L'eliminazione della tutela dei regimi arabi sull'Organizzazione per la liberazione della Palestina (Olp).  
C) La fine del panarabismo nasseriano.  
D) Il successo dei movimenti "fondamentalisti", in Israele per dare un senso alla vittoria, nei Paesi arabi per reagire alla sconfitta.

**005. Nel corso della rivoluzione russa, dopo l'arresto del governo provvisorio, il Congresso dei soviet ha ratificato due decreti redatti da Lenin in persona. Quali?**

- A) Il Decreto sulla pace che invocava una giusta pace democratica senza annessioni e indennità e il Decreto sulla terra che legittimava l'operato dei comitati agrari sull'appropriazione delle terre appartenente ai grandi proprietari terrieri.  
B) Il Decreto sull'informazione, che chiudeva tutti i giornali e il telegrafo e mirava al controllo della radio attraverso il Soviet della propaganda di Stato e il Decreto che il 27 ottobre denominava il nuovo governo come Cellula dei Consiglieri del Popolo.  
C) Il Decreto di istituzione delle Guardie Rosse per garantire le riunioni dell'Assemblea costituente e il Decreto per lo scioglimento delle sessioni del Congresso dei soviet e del Comitato esecutivo dei Soviet sostituiti dal Presidium del Comitato esecutivo dei soviet.  
D) Il Decreto per l'Assemblea costituente, che stabiliva le elezioni nel novembre 1916 e il Decreto che il 27 ottobre denominava il nuovo governo come Cellula dei Consiglieri del Popolo e il Decreto di scioglimento del Partito socialrivoluzionario.

**006. Perché Mao Zedong nel 1934 ha dato vita alla lunga ed estenuante marcia di circa 10mila chilometri verso Yan'an, nello Shaanxi?**

- A) Per respingere l'avanzata giapponese nel Nord-Ovest del Paese.  
B) Per incrementare, strada facendo, l'esercito con nuove forze, infatti è passato da 7mila a circa 100mila uomini.  
C) Per sterminare i proprietari terrieri nelle regioni coperte dalla "lunga marcia" e fidelizzare l'adesione dei contadini.  
D) È stata una ritirata per salvare il Partito comunista dalla distruzione e organizzare un nuovo Stato.

**007. Nel 1951 quali nazioni hanno firmato il trattato istitutivo della Comunità europea del carbone e dell'acciaio?**

- A) Austria, Danimarca, Francia, Repubblica Federale di Germania, Italia e Paesi Bassi.  
B) Austria, Francia, Repubblica Federale di Germania, Italia, Lussemburgo e Paesi Bassi.  
C) Belgio, Danimarca, Francia, Repubblica Federale di Germania, Italia e Lussemburgo.  
D) Belgio, Francia, Repubblica Federale di Germania, Italia, Lussemburgo e Paesi Bassi.

**008. Nel corso della guerra civile spagnola quali sono stati gli apporti esterni decisivi per le sorti del conflitto?**

- A) A Franco; armi e uomini della Germania nazista e dell'Italia fascista; alla sinistra: le brigate antifasciste internazionali.  
B) A Franco: uomini dell'Africa del Nord e dall'Oriente asiatico, armi e uomini della Germania nazista; alla sinistra: armi e uomini da Inghilterra e Stati Uniti.  
C) A Franco: uomini dell'Africa del Nord, armi e uomini della Germania nazista e dell'Italia fascista; alla sinistra: armi e uomini da Francia, Inghilterra, Usa e Urss.  
D) A Franco: armi e uomini della Germania nazista, dell'Austria, della Cecoslovacchia, della Bulgaria, della Polonia; alla sinistra: armi e uomini da Urss, Jugoslavia e Cina.

**009. In quale occasione gli italiani hanno accolto Mussolini come "salvatore della pace"?**

- A) Dopo l'occupazione di Corfù nel 1933.  
B) Dopo l'annessione dell'Austria al Reich tedesco nel 1938.  
C) Dopo gli accordi di Monaco sulla crisi cecoslovacca nel 1938.  
D) Dopo l'uccisione del cancelliere Dollfuss e il tentativo di colpo di Stato nazista in Austria nel 1924.

**010. Tra il 1944 e il 1945 la guerra in Italia è stata caratterizzata dalla cosiddetta "Linea Gotica", opera difensiva dell'Esercito tedesco contro le forze Alleate. Dove si estendeva?**

- A) Dal Lazio al Molise lungo i rilievi appenninici.                      B) Dal Lazio all'Abruzzo lungo i rilievi appenninici.  
C) Dalla Toscana alle Marche lungo i rilievi appenninici.                      D) Dalla Campania alla Puglia lungo i rilievi appenninici.

**011. Con gli accordi di Locarno quale grande vantaggio ha ottenuto la Francia?**

- A) Di alimentare il movimento separatista nel Palatinato.                      B) Di indebolire il Consiglio della Società delle Nazioni.  
C) Di fare del Reno una frontiera internazionale.                      D) Di mantenere produttive le colonie in Africa.

**012. L'equilibrio politico-territoriale stabilito con il Congresso di Vienna (1814-15), che finirà definitivamente con l'unificazione politica dell'Italia e della Germania, ha avuto tra i principali strumenti di difesa:**

- A) La Quadruplice Alleanza (Austria, Inghilterra, Prussia e Russia).
- B) La Triplice Intesa (Austria, Inghilterra e Russia).
- C) La Triplice Alleanza (Austria, Francia, Paesi Bassi).
- D) La Santissima Alleanza (Austria, Francia e Russia).

**013. Per espressa previsione di cui all'art. 102 del TFUE: 1) l'imporre direttamente o indirettamente prezzi d'acquisto, di vendita o altre condizioni di transazione non eque; 2) il subordinare la conclusione di contratti all'accettazione da parte degli altri contraenti di prestazioni supplementari, che, per loro natura o secondo gli usi commerciali, non abbiano alcun nesso con l'oggetto dei contratti stessi:**

- A) Costituisce abuso di posizione dominante solo il punto 2) il subordinare la conclusione di contratti all'accettazione da parte degli altri contraenti di prestazioni supplementari, che, per loro natura o secondo gli usi commerciali, non abbiano alcun nesso con l'oggetto dei contratti stessi.
- B) Costituisce abuso di posizione dominante solo il punto 1) l'imporre direttamente o indirettamente prezzi d'acquisto, di vendita o altre condizioni di transazione non eque.
- C) Costituiscono entrambi abuso di posizione dominante.
- D) Nessuno costituisce abuso di posizione dominante.

**014. Mezzi diplomatici di soluzione delle controversie, negoziati, buoni uffici, ecc. (Si individui l'affermazione corretta).**

- A) I negoziati sono considerati il mezzo più semplice di soluzione diplomatica delle controversie.
- B) Tali mezzi contemplano il coinvolgimento di un giudice preconstituito.
- C) I negoziati prevedono la partecipazione di un soggetto terzo.
- D) I buoni uffici sono risolti direttamente ed esclusivamente dalle parti in lite.

**015. Secondo quando previsto dall'art. 6 del GDPR - Regolamento generale sulla protezione dei dati approvato con Regolamento UE 2016/679 del Parlamento Europeo e del Consiglio del 27 aprile 2016, il trattamento è lecito se l'interessato ha espresso il consenso al trattamento dei propri dati personali per una o più specifiche finalità?**

- A) No, deve ricorrere anche la condizione che il trattamento sia necessario per l'esecuzione di un compito di interesse pubblico o connesso all'esercizio di pubblici poteri di cui è investito il titolare del trattamento.
- B) Sì, ma a condizione che il trattamento sia anche necessario per adempiere un obbligo legale al quale è soggetto il titolare del trattamento.
- C) No, deve ricorrere anche la condizione che il trattamento sia necessario per la salvaguardia degli interessi vitali dell'interessato o di un'altra persona fisica.
- D) Sì.

**016. Per espressa previsione di cui all'art. 16, par. 2, del TUE, il Consiglio è composto:**

- A) Da un rappresentante di ciascuno Stato membro a livello ministeriale.
- B) Da membri indipendenti nominati dalla Commissione europea.
- C) Dai capi di Stato e di governo.
- D) Da membri indipendenti nominati dal Parlamento europeo.

**017. Lo status dei membri della Commissione europea è stabilito dall'art. 17, par. 3, TUE e dall'art. 245 del TFUE; in base alle disposizioni ivi contenute:**

- A) I membri della Commissione devono attenersi alle istruzioni ricevute dai Governi dei Paesi membri.
- B) Il mandato dei Commissari è di dieci anni.
- C) I membri della Commissione possono, per la durata delle loro funzioni, esercitare un'altra attività professionale, purché non remunerata.
- D) I membri della Commissione sono scelti in base alla loro competenza generale e al loro impegno europeo e tra personalità che offrono tutte le garanzie di indipendenza.

**018. Sulla base della prassi, sono state individuate alcune cause di esclusione dell'illecito quali: la legittima difesa, le contromisure, l'estremo pericolo, ecc. (Cap. V della Parte I del Progetto sulla responsabilità dello Stato). La fattispecie che autorizza l'uso della forza da parte dello Stato che ha subito un attacco armato da parte di un terzo, costituisce:**

- A) Legittima difesa (art. 21).
- B) Forma maggiore (art. 23).
- C) Contromisura (art. 22).
- D) Estremo pericolo (art. 24).

**019. Per espressa previsione del combinato disposto di cui gli artt. 2 e 6, del TFUE, nei settori dell'industria e della cultura:**

- A) L'Unione e gli Stati membri possono legiferare e adottare atti giuridicamente vincolanti, ma l'esercizio delle proprie competenze da parte degli Stati membri deve avvenire nel rispetto degli atti dell'Unione.
- B) L'Unione non può svolgere nessuna azione.
- C) Solo l'Unione può legiferare e adottare atti giuridicamente vincolanti; gli Stati membri possono adottare autonomamente disposizioni normative solo se autorizzati dall'Unione oppure per dare attuazione agli atti dell'Unione.
- D) L'Unione può solo svolgere azioni intese a sostenere, coordinare o completare l'azione degli Stati membri.

**020. Per espressa previsione di cui all'art. 13, par. 1, TUE oltre al Consiglio europeo e alla Commissione europea, quali sono le altre istituzioni dell'Unione?**

- A) Parlamento europeo, Consiglio, Corte di giustizia dell'Ue, Banca centrale europea, Alto rappresentante per gli affari esteri e la politica di sicurezza, Corte dei conti.
- B) Parlamento europeo, Consiglio, Corte di giustizia dell'Ue, Banca centrale europea, Corte dei conti, COREPER.
- C) Parlamento europeo, Consiglio, Corte di giustizia dell'Ue, Banca centrale europea, Corte dei conti.
- D) Parlamento europeo, Corte di giustizia dell'Ue, Banca centrale europea, Corte dei conti.

**021. Con riferimento alle relazioni dell'Unione con le organizzazioni internazionali e i Paesi terzi, l'Unione deve attuare ogni utile forma di cooperazione con gli organi delle Nazioni Unite e degli istituti specializzati delle Nazioni Unite, il Consiglio d'Europa, ecc. Quali organi dell'Unione, per espressa previsione di cui all'art. 220, par. 2 del TFUE, sono incaricati dell'attuazione di quanto previsto?**

- A) Commissione europea e Parlamento europeo.
- B) Alto rappresentante dell'Unione Europea per gli affari esteri e la politica di sicurezza e Consiglio.
- C) Commissione europea e Consiglio.
- D) Alto rappresentante dell'Unione Europea per gli affari esteri e la politica di sicurezza e Commissione europea.

**022. La clausola "rebus sic stantibus" è contenuta nell'art. 62 della Convenzione di Vienna, articolo che impone limiti rigorosi. Si indichi l'affermazione corretta.**

- A) La parte che intende invocare la regola deve notificare la sua pretesa per iscritto alle altre parti, che hanno diritto ad un periodo di almeno un mese per le obiezioni.
- B) La clausola può essere invocata anche per gli accordi di confine.
- C) La clausola può essere invocata dallo Stato qualora si verifichi un mutamento radicale delle circostanze che hanno indotto le parti a stipulare l'accordo, anche se queste non hanno costituito la base essenziale del consenso.
- D) La clausola non può essere invocata per gli accordi di confine.

**023. A norma del disposto di cui all'art. 13 dello Statuto delle Nazioni Unite, quale organo intraprende studi e fa raccomandazioni allo scopo di sviluppare la cooperazione internazionale nei campi economico, sociale, culturale, educativo e della sanità pubblica, e promuovere il rispetto dei diritti dell'uomo e delle libertà fondamentali per tutti senza distinzione di razza, di sesso, di lingua, o di religione?**

- A) Consiglio Economico e Sociale.
- B) Corte Internazionale di Giustizia.
- C) Consiglio di Sicurezza.
- D) Assemblea Generale.

**024. È causa di estinzione dei Trattati:**

- A) Formazione di una norma di jus cogens (art. 64, Conv. Vienna).
- B) Corruzione del rappresentante di governo che conclude un accordo (art. 50, Conv. Vienna).
- C) Errore di gravità tale da viziare un elemento fondamentale dell'accordo (art. 48, Conv. Vienna).
- D) Violenza esercitata sul rappresentante dello Stato o direttamente sullo Stato ((art. 51, Conv. Vienna).

**025. La curva di Phillips modificata mette in relazione la variazione del tasso di inflazione e il tasso di disoccupazione. Come è altrimenti chiamata detta curva?**

- A) La curva di Phillips corretta per le aspettative o accelerata.
- B) La curva di Phillips corretta per le aspettative o originaria.
- C) La curva di Phillips originaria.
- D) La curva di Phillips corretta per le aspettative, originaria, accelerata.

**026. In un modello IS-LM un aumento delle imposte:**

- A) Sposta IS verso destra e LM verso l'alto.
- B) Sposta IS verso destra e LM verso il basso.
- C) Sposta IS verso sinistra e lascia LM invariata.
- D) Sposta IS verso sinistra e LM verso l'alto.

**027. Quale dei seguenti non rientra tra i fattori che possono portare al "fallimento del mercato"?**

- A) L'assenza di un mercato di libera concorrenza.
- B) L'esistenza di beni pubblici.
- C) La carenza d'informazioni.
- D) Il fatto che tutti i consumatori e i produttori siano "price taker".

**028. Il G20 è un gruppo informale internazionale che riunisce 20 Paesi e alle cui riunioni partecipano anche il FMI, la Banca Mondiale, le principali organizzazioni internazionali (Nazioni Unite, Banca Mondiale, OIL, OCSE) e la Spagna, invitato permanente. Quali Paesi ne fanno parte?**

- A) Argentina, Brasile, Cina, India, Turchia.
- B) Cina, Germania, Regno Unito, Somalia, Venezuela.
- C) Algeria, Canada, Messico, Russia, Sudafrica.
- D) Arabia Saudita Italia Svezia Turchia.

**029. L'indebitamento netto:**

- A) È misurato in un dato momento.
- B) Non è misurato in un dato arco di tempo.
- C) È una variabile di flusso.
- D) Non è una variabile di flusso.

**030. In quale dei seguenti modelli di oligopolio ogni impresa sceglierà l'output che massimizza il profitto sulla base delle aspettative circa la produzione dell'impresa concorrente?**

- A) Solo nel modello di Stackelberg.
- B) In nessuno dei modelli citati nelle altre risposte.
- C) Nel modello di Bertrand.
- D) Nel modello di Cournot.

**031. Quale dei seguenti effetti si può osservare in un mercato concorrenziale con una curva di offerta crescente e una curva di domanda decrescente, quando il Governo impone un prezzo minimo superiore a quello che si formerebbe nel libero mercato?**

- A) Poiché in presenza di un prezzo minimo ci sarà un eccesso di offerta, la dimensione del surplus del produttore dipenderà da quali produttori offrono effettivamente il bene. In presenza di un prezzo minimo, il surplus del produttore può sia aumentare sia diminuire.
- B) Non ci sarà una perdita di beneficio sociale netto.
- C) Il mercato è in equilibrio.
- D) Il surplus del consumatore sarà superiore a quello che caratterizza l'assenza di prezzi minimi.

**032. Quale istituzione del Gruppo Banca Mondiale è stata creata nel 1988 con il mandato di promuovere gli investimenti diretti esteri (IDE) nei paesi in via di sviluppo al fine di stimolare la crescita economica, contribuire a ridurre la povertà e migliorare le condizioni di vita delle popolazioni di paesi poveri?**

- A) International Financial Corporation (IFC).
- B) Multilateral Investment Guarantee Agency (MIGA).
- C) International Development Association (IDA).
- D) International Centre for Settlement of Investment Disputes (ICSID).

**033. IDE greenfield - IDE brownfield - IDE verticali - IDE orizzontali. Si individui l'affermazione errata.**

- A) Si parla di IDE di tipo greenfield, quando una multinazionale investe creando ex novo un'attività produttiva all'estero per esempio un nuovo stabilimento o una filiale estera.
- B) Nel caso degli IDE orizzontali, la scelta di produrre all'estero può essere legata soprattutto alla possibilità di ridurre i costi di accesso al mercato estero, o di adattare meglio la produzione alle preferenze della domanda locale, sfruttando la contiguità dell'attività produttiva ai mercati di consumo.
- C) Si hanno IDE orizzontali quando le controllate estere producono esattamente gli stessi beni prodotti dalla casa madre (nel caso di imprese monoprodotto) o specifiche varietà dello stesso prodotto (nel caso di imprese multiprodotto).
- D) Costituisce esempio di IDE verticale l'acquisto, nel 1990, del campo da golf Pebble Beach in California da parte di investitori giapponesi.

**034. In un sistema macroeconomico aperto e con intervento dello Stato la scomposizione del PIL di norma è la seguente:**

- A) Consumo, investimento, spesa pubblica, esportazioni e variazione di scorte.
- B) Consumo, investimento, spesa pubblica, importazioni e variazione di scorte.
- C) Consumo, investimento non residenziale, spesa pubblica, esportazioni nette e variazione di scorte.
- D) Consumo, investimento, spesa pubblica, esportazioni nette e variazione di scorte.

**035. Le operazioni di mercato aperto consistono nell'acquisto o vendita di titoli dello Stato da parte della Banca Centrale allo scopo di aumentare o ridurre l'offerta di moneta. Nel caso di acquisto di titoli l'operazione è detta:**

- A) Restrittiva.
- B) Espansiva.
- C) Di fine tuning.
- D) Di rifinanziamento principale.

**036. Il Board of Governors del FMI:**

- A) È struttura permanente all'interno del fondo con funzioni di vigilanza e controllo.
- B) È l'organo esecutivo del Fondo, esercita l'amministrazione dell'ente ed è composto da Direttori Esecutivi.
- C) È l'organo consultivo che definisce gli indirizzi strategici del Fondo.
- D) È il principale organo direttivo ed è composto da un Governatore e da un Vice-governatore, nominati da ogni Paese membro.

**Leggere il brano e rispondere alle seguenti 6 domande. (037 - 042)**

*Even though Apple has silenced critics and beaten existential crises before, some fans of its minimalist products and investors in its maximalist stock are nervous.*

*Apple is set to report its second quarter earnings on Thursday after the bell. The numbers come at a time the company continues to grapple with growth challenges due in part to a sales slowdown in China and a customer base seemingly less interested in upgrading to its latest iPhone lineup.*

*Analysts are expecting low sales figures for the quarter ending March 31 - despite the company beating expectations in the last four quarters.*

*This will be its first earnings report since the launch of its biggest new product in years, its \$3,499 mixed reality Vision Pro headset. Apple spent about \$100 billion in research and development on the device, according to a recent analysis.*

*The headset launched just as the extended reality (XR) market - a category that includes augmented, virtual and mixed reality - has plateaued with little mainstream consumer adoption. The Vision Pro had limited apps out of the gate but its experience is unmatched when it comes to watching immersive videos and interacting with the world around you, with buy-ins already from Hollywood studios and game developers.*

*Still, it's an expensive computer you wear on your face.*

*Most recently, Apple analyst Ming-Chi Kuo posted an updated forecast for the headset, stating production was being cut by several hundred thousand units.*

*Although it's unlikely Apple will reveal a specific number of headsets sold in the latest quarter, it may give a general update about how it's performing. In particular, the company has lost momentum in China as nationalism, a rough economy and increased competition have hurt Apple over the past several months. Market research firm IDC said Apple's smartphone shipments tumbled a stunning 10% globally in the first quarter of this year. Chinese manufacturers, including Huawei and Xiaomi, have also made notable gains as consumers who once would have considered Apple are now turning to national brands in China.*

*"It's a steep drop for Apple, but if you think of where we have been in the past four years, Apple has probably been the most resilient brand, overcoming supply chain issues and macro challenges, more than other brands," said Nabila Popal, research director at IDC, told CNN at the time.*

*Samsung also had been the top smartphone manufacturer for the past 12 years. Although Apple took the crown last year, its time on top lasted only one quarter. Samsung has since reclaimed its position, IDC reported. The company's stock price has slumped more than 8% in 2024 to less than \$170 a share after reaching nearly \$200 per share at different points in the past year. The company has overcome hurdles and threats many times before to reach a market capitalization of \$2.6 trillion, making it one of the largest and most powerful companies in the world. According to David McQueen, research director at tech intelligence firm ABI Research, the company could spark sales growth soon.*

*"It [may] engender a 'super cycle' as it rolls out generative AI features in its upcoming products, despite being "a little late to the AI party," he told CNN.*

*Apple has not yet sent a strong message about artificial intelligence at a time when many tech companies are doubling down on related strategies and features. But rumors indicate the company will introduce new AI-powered tools at its annual Worldwide Developers Conference in June.*

*The company is also reportedly in talks with ChatGPT-maker OpenAI to power an iPhone chatbot.*

*(<https://edition.cnn.com/2024/05/02/tech/apple-earnings-second-quarter-2024/index.html> )*

**(037 - 042)**

*Read the text and answer the questions*

**037. What is the significant feature of Apple's new product, the Vision Pro headset?**

- A) Advanced gaming performance. B) Integration with social media platforms.  
C) Immersive video watching and interaction capabilities. D) Affordable price compared to competitors.

**038. What upcoming event might Apple use to introduce new AI-powered tools, according to rumors in the text?**

- A) Annual Worldwide Developers Conference in June. B) Consumer Electronics Show in Las Vegas.  
C) Samsung's annual technology showcase. D) Vision Pro headset launch event.

**039. According to the text, what may be a reason for Apple's decline in the smartphone market in China?**

- A) Lack of supply chain management. B) Overemphasis on international markets.  
C) Nationalism, economic factors, and increased competition. D) Decrease in overall consumer spending.

**040. Who is quoted in the text discussing Apple's resilience as a brand despite recent challenges?**

- A) David McQueen, research director at ABI Research. B) A spokesperson from Apple.  
C) Ming-Chi Kuo, Apple analyst. D) Nabila Popal, research director at IDC.

**041. What prediction does David McQueen make regarding Apple's future sales growth?**

- A) A decline in sales due to lack of innovation.  
B) A shift towards budget-friendly product offerings.  
C) Stagnation in the market with no significant changes expected.  
D) A potential 'super cycle' with the introduction of generative AI features.

**042. What was the main factor contributing to Apple's growth challenges, as mentioned in the text?**

- A) Overwhelming demand for its products. B) A sales slowdown in China.  
C) Lack of innovation in its product lineup. D) Increased competition from other tech giants.

**Leggere il brano e rispondere alle seguenti 6 domande. (043 - 048)**

Indian weddings are notoriously elaborate affairs, requiring a multitude of outfit changes for multiple days of festivities. It used to be normal for a family visiting Brij Kishore Agarwal's sari shop, near the narrow lanes of Chandni Chowk market in India's Old Delhi, to depart with a big bundle of bright, embroidered garments and leave behind a substantial pile of cash. Worries that someone would break in and steal the money before he could make a bank deposit kept the store's now-79-year-old owner awake at night. These days he sleeps easier, because almost all his customers use e-payments to complete their purchases. "I have seen this country change," says Agarwal, who has worked in the shop for about 65 years. "We very rarely get cash payments."

Digital payments, made through systems like the Unified Payments Interface (UPI), which allow users to transfer funds instantly by scanning a QR code, have become ubiquitous across the world's most populous country, transforming daily life. In Delhi, tea sellers collect rupees via mobile apps, and tuk tuk drivers who pull over to buy parathas stuffed with steaming hot paneer pay with their phones. The e-payment revolution is also likely to play an important role in India's attempts to become an economic superpower. It is the planet's fifth biggest economy, and Prime Minister Narendra Modi, who is currently running for his third consecutive term, has said he wants India to be considered "developed" by 2047. "Digital payments are likely to enhance India's growth by eliminating frictions, increasing efficiency, and reducing costs," Eswar Prasad, an economics professor at Cornell University, told CNN. "UPI and the broader digitization of the economy could also increase the inclusiveness of this growth," he added.

India's push to digitize its society started about 15 years ago, but e-payments were slow to catch on. In 2016, 96% of transactions in India were still conducted with banknotes.

Two events that year changed things. First, the non-profit National Payments Corporation of India (NPCI), an initiative of the central bank and a banking association, launched the payment infrastructure UPI. UPI allows users to use their phone as a virtual debit card, transferring money from almost 600 member banks and fintech companies instantly without entering bank details or paying transaction fees. Later that year, the government suddenly scrapped two large banknotes that comprised 86% of all currency in circulation, with the stated goal of fighting corruption. That prompted a surge in the use of e-payments. "We had no choice," says Ramesh Kumar, 52, a towel shop owner in Delhi's Sarojini Nagar Market, who started accepting digital payments in 2016. Covid-19 further boosted the adoption of digital transactions, as people tried to protect themselves from the virus. Now, Indians use UPI to pay everyone from vegetable vendors to doctors. More digital transactions are completed in India than any other country, according to the government. In 2023, the number of UPI transactions topped 100 billion. There are some holdouts. Azeez, a 34-year-old rickshaw driver in Old Delhi, told CNN that he's too scared of losing money to use e-payments. "I am [an] uneducated person, I am poor, I have never been to a school, I can't read or write," he says. "What if I make a mistake?" Still, the upward trend is expected to continue, further boosting the number and value of funds flowing into the formal economy. UPI is aiming for two billion transactions a day by 2030. "If I can, and my store, which is so old, can move forward and change like this, I am sure every buyer and customer will also do it," says Agarwal, the sari seller. (<https://edition.cnn.com/2024/04/29/tech/india-digital-payments-upi-growth-hnk-intl/index.html> )

**(043 - 048)**

Read the text and answer the questions

**043. What prompted a surge in the use of e-payments in India in 2016?**

- A) Increase in bank robbery incidents.
- B) Decrease in smartphone usage.
- C) Government's sudden scrapping of large banknotes.
- D) Introduction of new paper currency.

**044. Who is described as a holdout in the adoption of e-payments in the text?**

- A) Ramesh Kumar, a towel shop owner.
- B) Azeez, a rickshaw driver.
- C) Narendra Modi, the Prime Minister of India.
- D) Brij Kishore Agarwal, a sari shop owner.

**045. What payment system has become ubiquitous across India, according to the text?**

- A) Cash transactions only.
- B) Credit card payments.
- C) Barter system.
- D) Unified Payments Interface (UPI).

**046. What effect did the COVID-19 pandemic have on digital transactions in India?**

- A) No impact on digital transactions.
- B) Decreased usage due to fear of cyberattacks.
- C) Boosted adoption due to health concerns.
- D) Led to a complete halt in digital payments.

**047. How do users transfer money through the Unified Payments Interface (UPI)?**

- A) By scanning a QR code.
- B) By visiting a physical bank branch.
- C) By filling out lengthy forms.
- D) By sending a carrier pigeon.

**048. What is the long-term goal of the Unified Payments Interface (UPI), as mentioned in the text?**

- A) Expansion to other countries beyond India.
- B) Complete eradication of cash transactions.
- C) Hundred billion transactions a day by 2025.
- D) Two billion transactions a day by 2030.

**Leggere il brano e rispondere alle seguenti 5 domande. (049 - 053)**

Una psicologa infantile ha ricevuto quattro offerte di lavoro in Comunità terapeutiche riabilitative per minori: Mesia, Potere, Dentro, Farcela. Il numero di minori che ogni struttura può ospitare è diverso e in ordine sparso è: 7, 8, 11, 12. Ogni struttura ha la sede in un diverso Comune della Toscana: Grosseto, Camaiole, Bagno a Ripoli, Volterra non necessariamente in questo ordine. Le quattro strutture hanno in ordine sparso: 3, 4, 5, 6 educatori. È inoltre noto che: la comunità Dentro si trova a Bagno a Ripoli, può ospitare 12 minori e ha 3 educatori; la comunità Farcela può ospitare 11 minori e ha 5 educatori; la struttura di Grosseto può ospitare 7 minori; Potere ha 4 educatori e ha sede a Volterra.

**049. Quanto minori può ospitare la comunità Mesia?**

- A) 8 minori.
- B) 7 minori.
- C) 12 minori.
- D) 11 minori.

**050. Quale comunità ha il maggiore numero di educatori?**

- A) Mesia.
- B) Dentro.
- C) Farcela.
- D) Potere.

**051. Qual è la comunità con 5 educatori?**

- A) Dentro.
- B) Potere.
- C) Mesia.
- D) Farcela.

**052. In quale comune si trova la comunità che può ospitare 8 minori?**

- A) Bagno a Ripoli.
- B) Volterra.
- C) Grosseto.
- D) Camaiole.

**053. Quale comunità si trova a Bagno a Ripoli?**

- A) Dentro.
- B) Potere.
- C) Mesia.
- D) Farcela.


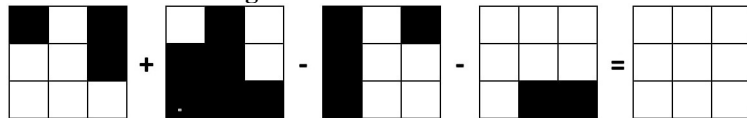
**054. Quale termine eliminerebbe dal seguente gruppo: "Acerrimo - Implacabile - Arrendevole - Irriducibile"?**

- A) Implacabile.
- B) Arrendevole.
- C) Irriducibile.
- D) Acerrimo.

**055. Due numeri sono tali che sommando al doppio del primo il secondo si ottiene 25 e sottraendo dal primo il doppio del secondo si ottiene -25. Quali sono i due numeri?**

- A) 5; 10.
- B) 2; 1.
- C) 3; 19.
- D) 5; 15.

**056. Individuare la figura mancante.**



- A) La figura indicata con la lettera C.
- B) La figura indicata con la lettera D.
- C) La figura indicata con la lettera B.
- D) La figura indicata con la lettera A.

**057. Se oggi, 03/09/2023, a Silvia viene fossato l'esame per la patente tra 39 giorni, in che giorno sosterrà l'esame?**

- A) 10/10/2023.
- B) 12/10/2023.
- C) 13/10/2023.
- D) 06/10/2023.



058. Individuare il numero che sostituito a ... completa la sequenza numerica: 34 | 43 | 29 | 38 | 24 | 33 | 19 | ... | 14 | 23.


- A) 27.
- B) 28.
- C) 32.
- D) 30.

059. Quale simbolo, indicato dalle coordinate alfanumeriche, va sostituito alla X per completare correttamente la seguente proporzione?  $D3:X=C2:B3$ .

	A	B	C	D	E	F
1						
2						
3						
4						

- A) F1.
- B) A1.
- C) A2.
- D) F4.

060. Quale delle figure proposte completa la serie?



- A
- B
- C
- D

- A) La figura indicata con la lettera C.
- B) La figura indicata con la lettera A.
- C) La figura indicata con la lettera B.
- D) La figura indicata con la lettera D.

